


Nom

Date

» PROBLEMES


Une École organise une excursion au zoo de la ville pour les 50 élèves inscrits. Le prix total de la visite est évalué à 1 680 € dont 340,73 € pour le transport. L'École dispose de 474,27 € et la mairie se chargera de payer le transport. La somme restante sera répartie équitablement entre les parents d'élèves.

Quel est le coût de la visite sans le transport ?




A cartoon illustration of a boy with orange hair wearing a red shirt and blue shorts, and a girl with blonde hair wearing a purple dress. They are standing on the left side of a large grid of blue and purple lines, which is intended for writing the answer to the problem.

Après que la Mairie ait payé le transport, quelle somme manquera-t-il à l'École pour compléter les frais d'excursion ?



A large grid of blue and purple lines, intended for writing the answer to the second problem.

Quelle somme les parents doivent-ils contribuer par élève ?



A large grid of blue and purple lines, intended for writing the answer to the third problem.

